

ATIVIDADES ROTINA – 19 À 23 DE OUTUBRO (2º ANOS)

SEGUNDA-FEIRA (19/10/20)

EMAI (LIVRO CAPA AZUL – VOLUME 1) MATEMÁTICA – Sequência 13 – Brinquedos, caixas e seus formatos – ATIVIDADE 13.3 - página 79. Resolva os exercícios 1 e 2 (a). Desenhando objetos com formato de cubo.

ATIVIDADE 13.3

1 ANDRÉ OBSERVOU QUE OS DADINHOS COM LETRAS NÃO TÊM PARTES ARREDONDADAS (FIGURA A). É POSSÍVEL EMPILHÁ-LOS E ELES FICAM "PARADINHOS", AO CONTRÁRIO DA BOLA, QUE NÃO PARA DE ROLAR. ELE ENCONTROU OUTROS OBJETOS QUE PARECEM COM OS DADINHOS DE LETRAS, COMO OS MOSTRADOS ABAIXO:

FIGURA A



FIGURA B



FIGURA C



Foto: IMESP

2 ANDRÉ PERGUNTOU À SUA MÃE O NOME DESSAS FIGURAS. ELA EXPLICOU QUE ESSES OBJETOS TÊM FORMATO DE CUBO.

A. DESENHE OU ESCREVA O NOME DE OUTROS OBJETOS QUE TÊM FORMATO DE CUBO

PUFF

CAIXAS

GELO

TV ANTIGA

PORTUGUÊS - Leia o bilhete e responda as questões.

1 – QUAL É O GÊNERO LITERÁRIO ACIMA? **R: O GÊNERO LITERÁRIO É BILHETE.**

2 – PARA QUEM O BILHETE FOI DESTINADO? **R: O BILHETE FOI DESTINADO AOS ALUNOS.**

3 - O QUE A PROFESSORA QUER FAZER QUANDO ENCONTRAR OS ALUNOS? **R: A PROFESSORA QUER DAR UM ABRAÇO APERTADO EM CADA ALUNO.**

4 – QUEM ESCREVEU O BILHETE? **R: QUEM ESCREVEU O BILHETE FOI A PROFESSORA.**

5 – COMO A PROFESSORA SE DESPEDIU? **R: A PROFESSORA SE DESPEDIU COM BEIJOS.**

6 – QUAL A DATA EM QUE O BILHETE FOI ENVIADO? **R: O BILHETE FOI ENVIADO DIA 19/10/20.**

TERÇA-FEIRA (20/10/20)

EMAI (LIVRO CAPA AZUL – VOLUME 1) MATEMÁTICA – Sequência 13 – Brinquedos, caixas e seus formatos – ATIVIDADE 13.4 - página 80. Resolva o exercício 1 (a,b). Desenhando objetos com formato de bloco retangular.

ATIVIDADE 13.4

ANDRÉ TEM UMA IRMÃ CHAMADA LUÍSA. ELA TRABALHA EM UMA CONFETEARIA E TROUXE UMA CAIXA DE BOMBONS DE PRESENTE PARA ELE. ANDRÉ PRESTOU ATENÇÃO NO SEU FORMATO.





Foto: IMESP

ELE OBSERVOU QUE A CAIXA É PARECIDA COM O CUBO, MAS TEM DIFERENÇAS.

A. VOCÊ SABE QUAIS SÃO ESSAS DIFERENÇAS? A MÃE DE ANDRÉ DISSE QUE ESSA CAIXA TEM O FORMATO DE PARALELEPÍPEDO OU BLOCO RETANGULAR.

B. DESENHE DOIS OBJETOS QUE TÊM O FORMATO DE UM BLOCO RETANGULAR:



80 EDUCAÇÃO MATEMÁTICA NOS ANOS INICIAIS DO ENSINO FUNDAMENTAL – EMAI

CADERNO DE CASA - Escreva um bilhete para sua professora respondendo o bilhete dela. Não esqueça de seguir as etapas do bilhete. Realizar a escrita no caderno de casa.

RESPOSTA PESSOAL – ENVIAR FOTO PARA A PROFESSORA

QUARTA-FEIRA (21/10/20)

EMAI (LIVRO CAPA AZUL – VOLUME 1) MATEMÁTICA – Sequência 13 – Brinquedos, caixas e seus formatos – ATIVIDADE 13.5 - página 81. Resolva o exercício 1 (a,b,c). Analisando peso.

ATIVIDADE 13.5

2 OBSERVANDO A CAIXA DE BOMBONS, OUTRA INFORMAÇÃO CHAMOU A ATENÇÃO DE ANDRÉ:




Foto: IMESP

ELE, ENTÃO, PERGUNTOU PARA LUIÇA:

A. O QUE QUER DIZER 300G?
O PESO

B. 300G É MAIS QUE 1 QUILO OU MENOS?
É MENOS

C. O QUE VOCÊ RESPONDERIA AO ANDRÉ?
QUE AS GRAMAS VALEM MENOS.

ALGUNS DIAS DEPOIS, NA ESCOLA, ANDRÉ APRENDEU MUITAS COISAS SOBRE MEDIDAS DE MASSA. FICOU SABENDO QUE POPULARMENTE CHAMAMOS A MASSA DE PESO.

DESCOBRIU QUE AS UNIDADES MAIS USADAS SÃO O QUILOGRAMA (KG) E O GRAMA (G) E QUE 1 KG EQUIVALE A 1000 GRAMAS.

SEGUNDO ANO – CADERNO DO ALUNO – VOLUME 1 **81**

PORTUGUÊS – Leia a definição de panfleto e veja alguns exemplos. (Atividade de leitura).

Resolva os exercícios 1 (a,b,c) e 2 (a,b,c)- Situações problemas e interpretação.

SEQUÊNCIA 14
JOGOS E CÁLCULOS



ATIVIDADE 14.1

CRIANÇAS GOSTAM MUITO DE JOGOS.

1. A TURMA DE GIOVANA ESTAVA BRINCANDO DE QUEIMADA. ERAM CRIANÇAS. AGORA, CHEGARAM OUTROS 4 AMIGOS PARA BRINCAR.

RESPONDA:

A. QUANTAS CRIANÇAS ESTAVAM BRINCANDO INICIALMENTE?

12 CRIANÇAS

B. QUANTAS CRIANÇAS CHEGARAM? 4

C. QUANTAS CRIANÇAS ESTÃO PARTICIPANDO DA BRINCADEIRA AGORA?

16 CRIANÇAS. $12 + 4 = 16$

2. A TURMA DE GUSTAVO DECIDIU BRINCAR DE ESCONDE-ESCONDE. 18 AMIGOS COMEÇARAM A BRINCADEIRA. DEPOIS DE UM TEMPO, 6 DELES DECIDIRAM JOGAR BOLINHA DE GUDE E OS OUTROS CONTINUARAM NESSA BRINCADEIRA.

RESPONDA:

A. QUANTOS AMIGOS ESTAVAM BRINCANDO DE ESCONDE-ESCONDE INICIALMENTE?

18 AMIGOS

B. QUANTOS AMIGOS DEIXARAM A BRINCADEIRA? 6

C. QUANTOS AMIGOS CONTINUARAM A BRINCAR DE ESCONDE-ESCONDE?

12 AMIGOS. $18 - 6 = 12$

PORTUGUÊS – Leia o panfleto e responda as questões.

1-ESTE TEXTO É :

() UM POEMA () UM CONVITE (X) UM PANFLETO

2- ESTE TEXTO FOI ESCRITO PARA:

- () DIVERTIR AS PESSOAS.
(X) DAR INSTRUÇÕES DE COMO SE PROTEGER DO CORONAVÍRUS.
() FAZER UM CONVITE.

3- A FRASE: EVITE LOCAIS COM AGLOMERAÇÃO DE PESSOAS. SIGNIFICA:

- () QUE DEVEMOS FREQUENTAR LUGARES COM MUITAS PESSOAS.
(X) QUE NÃO DEVEMOS FREQUENTAR LUGARES COM MUITAS PESSOAS.

4- ORGANIZE AS PALAVRAS EM ORDEM ALFABÉTICA. (SE FOR NECESSÁRIO CONSULTE O ALFABETO)

GEL- NASAL- DESCARTÁVEL- ÁLCOOL- TOSSIR- ESPIRRAR- BOCA- CUBRA

ÁLCOOL- BOCA- CUBRA- DESCARTÁVEL-ESPIRRAR- GEL-NASAL- TOSSIR

SEXTA-FEIRA (23/10/20)

Atividade de entretenimento – Ouça o trava-língua “Um prato de trigo para três tigres tristes”, treine com sua família e envie o seu áudio ou vídeo para sua professora.